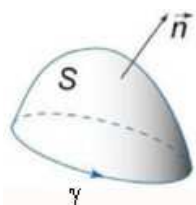


ELETROMAGNETISMO

1º Semestre de 2014

Prof. Maurício Fabbri

© 2014

1. A lei da indução de FaradayS se apoia em γ

$$|V_{ind}| = \left| \frac{d\Phi}{dt} \right|$$

f.e.m induzida = velocidade de variação do fluxo magnético

$$V_{ind} = \oint_{\gamma} \vec{E} \cdot \hat{t} dl$$

$$\frac{d\Phi}{dt} = \frac{d}{dt} \iint_S \vec{B} \cdot \hat{n} dS$$

 $q \cdot V_{ind}$ = energia que a carga q receberia do campo elétrico se percorresse o caminho fechado γ .

 Se \vec{E} fosse conservativo, teríamos $\oint_{\gamma} \vec{E} \cdot \hat{t} dl = 0$.
2. A lei de Lenz

A corrente elétrica pelo percurso γ que seria provocada por V_{ind} produziria um campo magnético que iria se opor à variação do fluxo.

Obedecendo à convenção da regra da mão direita, observamos que, através da superfície S, o fluxo produzido pela corrente induzida é positivo e, portanto, a variação do fluxo externo é negativo.

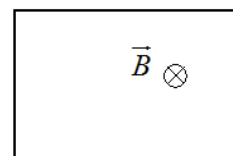
Respeitando a convenção da mão direita, a Lei de Faraday é escrita como

$$V_{ind} = - \frac{d\Phi}{dt}$$

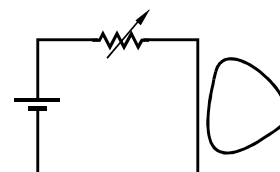
Exercício 1: No interior da espira ao lado, \vec{B} é uniforme, e está aumentando.

A corrente induzida na espira é no sentido

- () horário
() anti-horário

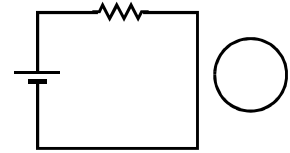
**Exercício 2:** No esquema ao lado, se o resistor estiver aumentando, a corrente induzida no *loop* da direita será no sentido

- () horário
() anti-horário

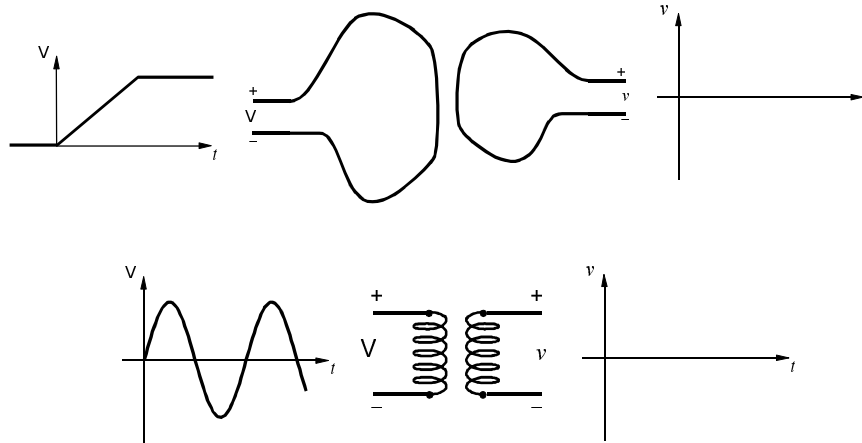


Exercício 3: No esquema ao lado, se o *loop* estiver se aproximando do circuito, a corrente nele induzida será no sentido

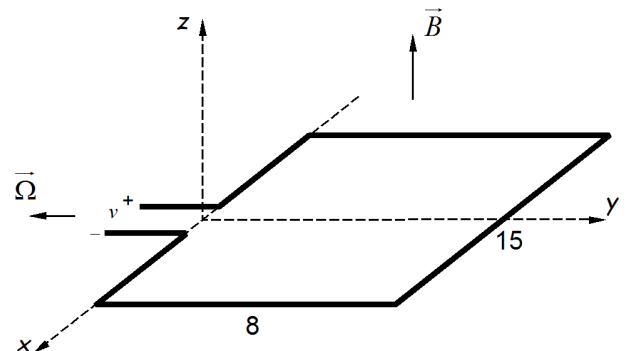
- () horário
() anti-horário



Exercício 4: (*fem* de transformação) Esboce o sinal de saída v nos circuitos abaixo.



Exercício 5: (*fem* de movimento) Na figura, a espira de 15×8 cm gira com velocidade angular $\Omega = 1200$ rpm ao redor do eixo y , em uma região onde o campo magnético \vec{B} é uniforme, de 2T, ao longo do eixo z . Esboce a forma de onda e encontre o valor da amplitude da *fem* induzida v .



3. Forma diferencial da lei de Faraday/Lenz

$$V_{ind} = -\frac{d\Phi}{dt} \quad \Rightarrow \quad \oint_{\gamma} \vec{E} \cdot \hat{t} \, dl = -\frac{d}{dt} \iint_S \vec{B} \cdot \hat{n} \, dS$$

Os campos \vec{E} e \vec{B} variam com o tempo e com a posição no espaço. Ao redor de um ponto qualquer P do espaço, trace um caminho fechado qualquer γ , e tome uma superfície qualquer S que se apoie em γ . Se γ e S não variam com o tempo, podemos escrever

$$\oint_{\gamma} \vec{E} \cdot \hat{t} \, dl = -\iint_S \left(\frac{\partial \vec{B}}{\partial t} \right) \cdot \hat{n} \, dS$$

Note o emprego da derivada parcial, uma vez que \vec{B} varia tanto no tempo como no espaço, e estamos calculando apenas a variação com o tempo em um mesmo ponto P do espaço.

Lembrando do teorema de Stokes $\oint_{\gamma} \vec{E} \cdot \hat{t} dl = \iint_S (\nabla \times \vec{E}) \cdot \hat{n} dS$, e considerando que as identidades acima valem para quaisquer escolhas de γ e S , devemos ter, em cada ponto do espaço,

$$\nabla \times \vec{E} = -\frac{\partial \vec{B}}{\partial t}$$

Essa é uma das quatro equações de Maxwell.

Exercício 6: (onda plana simples) As equações de Maxwell determinam o comportamento do campo eletromagnético. No vácuo, na ausência de cargas ou correntes elétricas, essas equações se escrevem como

$$\begin{cases} \nabla \cdot \vec{E} = 0 & \nabla \cdot \vec{B} = 0 \\ \nabla \times \vec{E} = -\frac{\partial \vec{B}}{\partial t} & \nabla \times \vec{B} = \mu_0 \epsilon_0 \frac{\partial \vec{E}}{\partial t} \end{cases}$$

$$\epsilon_0 = 8,85 \times 10^{-12} \text{ F/m (permissividade elétrica do vácuo)}$$

$$\mu_0 = 4\pi \times 10^{-7} \text{ H/m (ou T.m/A) (permeabilidade magnética do vácuo)}$$

Suponha que, numa dada região do espaço, o campo elétrico seja dado por

$$\vec{E} = 10 \text{ sen}(\kappa y - 2000\pi t) \hat{k} \quad \begin{cases} kV/m \\ m \\ s \end{cases}$$

- Qual a frequência de oscilação de \vec{E} ?
- Use as equações de Maxwell para encontrar o valor de κ .
- Encontre o campo magnético associado \vec{B} . Qual a amplitude do mesmo?
- Verifique que esse campo eletromagnético é uma onda plana transversal que se propaga na direção y . Qual o comprimento de onda? Qual a velocidade de propagação?
- O fluxo de energia (W/m^2) transportado pela onda eletromagnética, na direção de propagação, é dado pelo módulo do vetor de Poynting $\vec{S} = \frac{\vec{E} \times \vec{B}}{\mu_0}$. Qual a intensidade média do fluxo de energia transportado pela onda eletromagnética deste exercício?